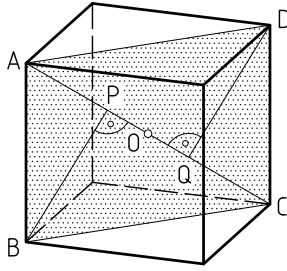


1

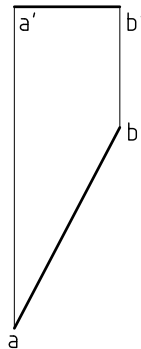


Representar la sección principal ABCD de un hexaedro de arista 30 mm.

2

Representar un hexaedro de arista 30, apoyado por una cara en un plano horizontal.

3



Representar el cubo de arista AB cuya sección principal ABCD es vertical.

4

Representar un cubo que tenga una diagonal vertical. La diagonal de una cara mide 30.

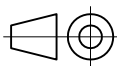
Unidades: mm.

Nombre:

Curso:

Nº

Escala
1:1



Poliedros regulares
El cubo

Fecha:

D-27

Nota: