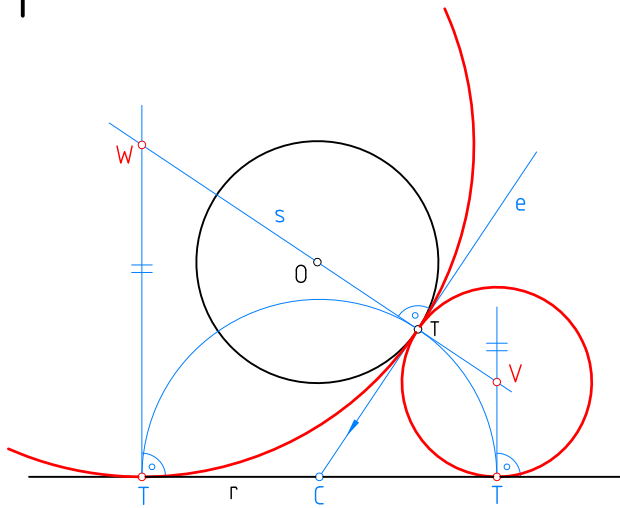
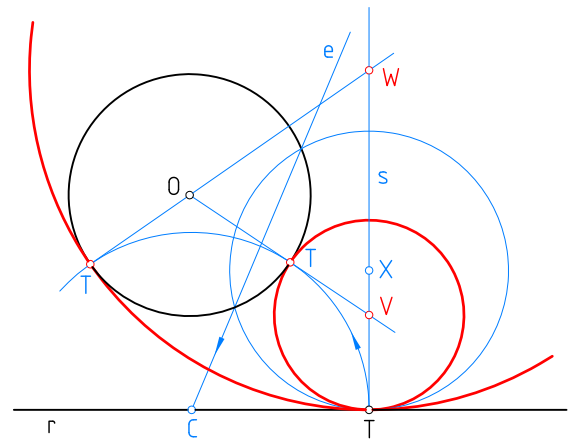


1



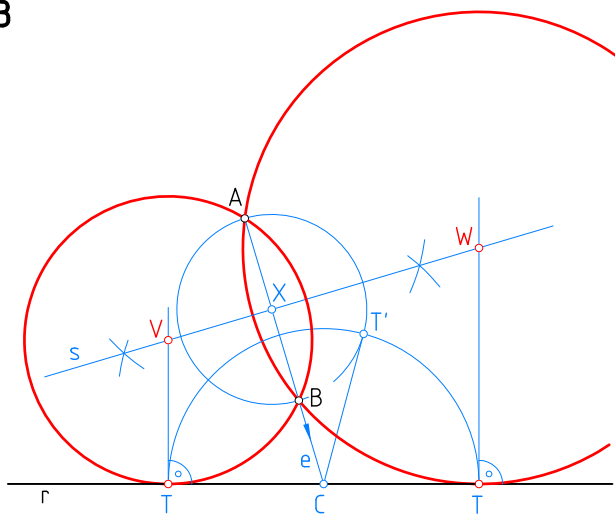
Trazar las circunferencias tangentes a r y a la dada en el punto T.

2



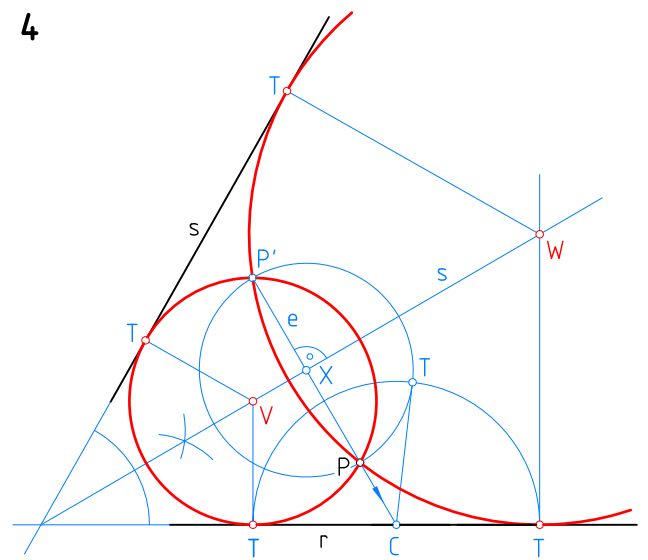
Trazar las circunferencias tangentes a la dada y a r en el punto T.

3



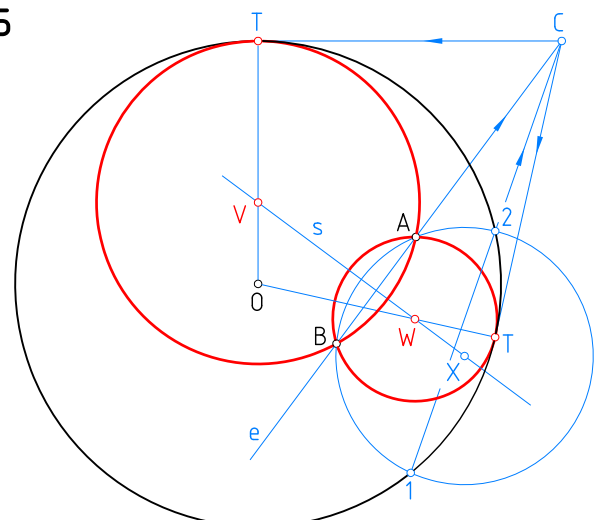
Trazar las circunferencias tangentes a la recta r que pasan por los puntos A y B.

4



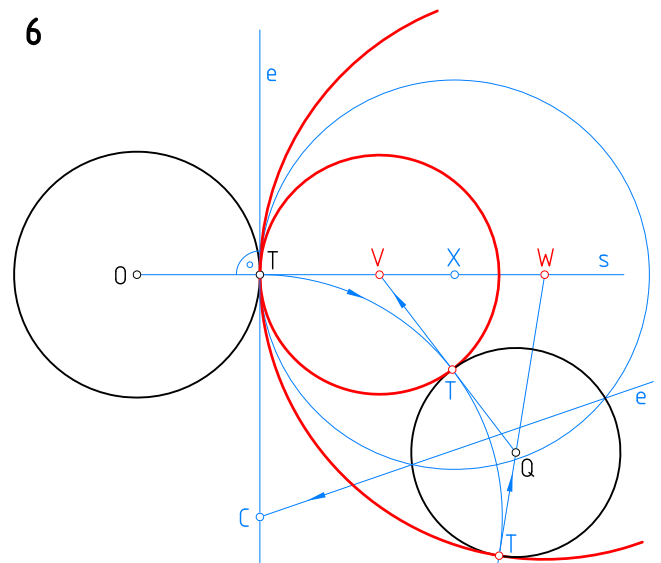
Trazar las circunferencias tangentes a las rectas r y s que pasan por el punto P.

5



Si los puntos son exteriores, se opera de igual manera  
Trazar las circunferencias tangentes a la de centro O que pasan por los puntos A y B.

6



Trazar las circunferencias tangentes a las dadas de centro O y Q dado el punto de tangencia T en una de ellas.

© EDITORIAL ALARCÓN. PRÁCTICAS DE DIBUJO TÉCNICO II RESUELTO. ISBN 978-84-613-6143-4.

Unidades: mm.	Nombre:	Curso:	Nº
Escala 1:1	Tangencias, 1 Potencia	Fecha:	
		B-16	Nota: